

Recupera información NO



1 Colorea 😊 si el enunciado es verdadero, o ☹️, si el enunciado es falso.

- ★ El paisaje natural es transformado por la acción de las personas.
- ★ Los ríos, los animales y las plantas son elementos naturales.
- ★ En el paisaje natural predominan los elementos hechos por las personas.
- ★ En el paisaje cultural se observan viviendas, oficinas y automóviles.



Interpreta


2 Observa cada imagen. Luego, escribe en el la letra N, si se refiere a un elemento natural, o C, si se refiere a un elemento cultural.



■ Lee el siguiente texto.

Nati viaja a la ciudad

Pipe es un ratón que vive en una ciudad de clima cálido. Está muy preocupado porque su prima Nati, que viene a visitarlo desde una vereda de clima frío, debería haber llegado por la mañana, y no hay rastros de ella. Pipe, muy pensativo, cree que debió haberle dado más indicaciones a Nati para llegar a casa, pues ella nunca ha cruzado grandes avenidas.



Después de varias horas, Nati por fin llega. Le cuenta a su primo que se sintió asustada por tanto ruido y por ver construcciones tan grandes. Además, le contó que tuvo que pedir ayuda para orientarse y encontrar la casa.

Cansada por el viaje, Nati le dice a Pipe que quiere ir al pozo para darse un baño y luego, a la huerta, por algo de comida. Entonces, Pipe le explica que ya compró la comida en el supermercado y que puede ducharse en el baño. Nati, asombrada con la explicación de Pipe, se preguntó: ¿por qué no aprovechar lo que nos da la naturaleza?

1 Une, con una línea, cada personaje con el lugar donde vive.




Pipe



Nati

2 Dibuja tres elementos que existen en la vereda de Nati y que no existen en la ciudad donde vive Pipe.



Recupera información

Lee cada enunciado. Luego, realiza un dibujo que lo represente.

La vivienda sirve para protegernos del clima.

Algunas viviendas se construyen con ladrillos y cemento.

Interpreta

2 Numera de 1 a 4 los siguientes cambios en la historia de la vivienda. Ten en cuenta el orden en que sucedieron.

<input type="checkbox"/> Las casas y los apartamentos son más cómodos y modernos.	<input type="checkbox"/> Los primeros seres humanos vivían en cuevas.
<input type="checkbox"/> Las viviendas eran rudimentarias. Se construían con materiales como pieles de animales y madera.	<input type="checkbox"/> Luego, aparecieron construcciones más resistentes como los castillos.

Reflexiona y valora


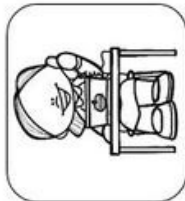

3 En nuestro país, algunas personas viven en condiciones de mucha pobreza, por eso se ven obligadas a construir sus viviendas con materiales como plástico y cartón.

★ Responde en tu cuaderno.

- ¿Por qué crees que es mejor una vivienda de ladrillo o madera que una de cartón y plástico?

Escucha el cuento de "Los tres cochinitos" y menciona las diferencias que existen entre los materiales con los que construyeron sus viviendas.

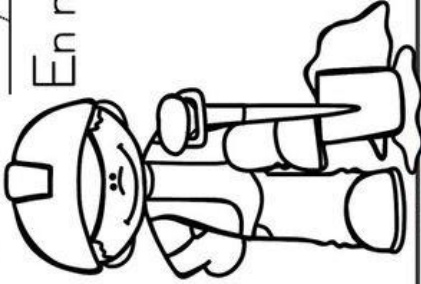
Relaciona cada personaje con su herramienta de trabajo.



Imágenes Educativas.com Soy una actividad

En mi trabajo utilizo:

- Portátil
- Cemento
- Casco
- Escoba
- Pala

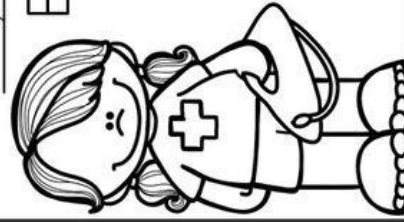


<http://www.imageneseducativas.com>

Soy una actividad

En mi trabajo utilizo:

- Flotador
- Fregón
- Pizarra
- Bañador
- Toalla



@acriblu

Lee y completa , siguiendo el ejemplo.



Soy _____ ,
todos los días hago pan.



Soy _____ ,
pinto unos cuadros muy bonitos.



Soy _____ ,
fabrico muebles muy bonitos.



Soy _____ ,
diseño casas y edificios.



Soy _____ ,
vendo unos embutidos buenísimos.



Soy _____ ,
ilumino toda la casa.



Soy _____ ,
traigo los pedidos a casa.



Soy _____ ,
arreglo todos los jardines.




Soy _____ ,
presto libros a todo el mundo.





TALLER VACACIONAL SOCIALES
PERIODO III

NOMBRE COMPLETO _____ GRADO 2°

Interpreta




■ Si en la ilustración que observas son las 8:00 a.m., ¿en qué puntos cardinales se encuentran la iglesia, la alcaldía, el colegio y el hospital?



- ★ La  está al _____
- ★ La  está al _____
- ★ El  está al _____
- ★ El  está al _____

Es de noche o de día

Relaciona cada imagen con el sol o con la luna si es de día o de noche.
Une con una línea cada momento con el sol o con la luna según corresponda



BUENOS DIAS Y BUENAS NOCHES

¿Qué has hecho esta mañana?, ¿Y esta noche?

Dibuja que has hecho hoy

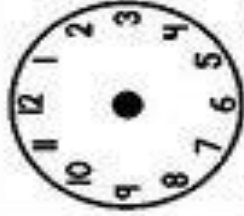


DÍA

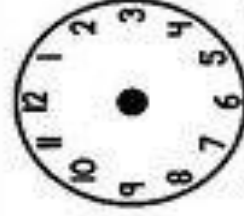


NOCHE

Dibuje la hora correcta.



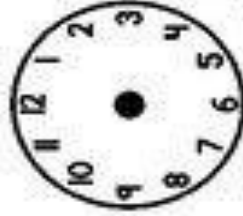
3:30



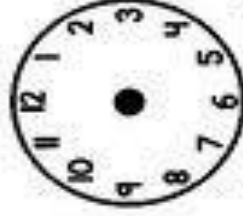
7:00



5:30



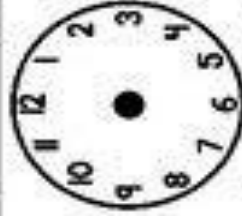
6:00



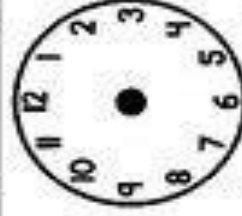
4:30



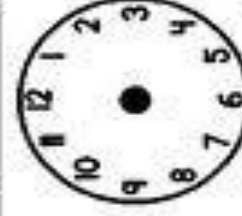
9:00



2:30



5:00



12:30

¿Qué son los Quimbayas?

¿cuáles fueron las costumbres de los Quimbayas?

Dibuja una figura propia de los Quimbayas

¿Qué cultivaban los Quimbayas?

¿Cuáles eran los dioses de los Pijaos?

TALLER VACACIONAL SOCIALES
PERIODO IV

NOMBRE COMPLETO _____ GRADO 2°

★ Actualmente, las personas eligen a sus representantes marcando sus votos en...

piedras.

papeletas secretas.

conchas marcadas.

tarjetones.

Competencia argumentativa

2 Responde. ¿Crees que es importante que los niños y las niñas elijan a sus representantes escolares? ¿Por qué?

3 Representa en un dibujo, unas elecciones en las que los hombres y las mujeres participan.



Competencia propositiva

4 Menciona tres ideas para mejorar y mantener la convivencia en tu comunidad. Comparte tus ideas con tu familia y en tu clase.

1 Busca en el mapa político de Colombia el departamento donde vives. Luego, márcalo con una X y encierra el nombre de la capital.



Todos los departamentos de nuestro país tienen una ciudad capital. Por ejemplo, la capital del departamento del Meta es Villavicencio; y del departamento de Córdoba es Montería.



2 Une las sílabas que tengan el mismo color para conocer cuál es la ciudad capital de los siguientes departamentos. Ten en cuenta el mapa y no olvides marcar con una X las sílabas que vayas utilizando.


Departamento	Capital
Antioquia	
Amazonas	
Bolívar	
Caldas	
Caquetá	
Cesar	
Cundinamarca	



Interpreta

1 Además de los símbolos patrios, nuestro país también tiene otros tres elementos representativos. Une con una línea el nombre de cada elemento con su imagen y adivinanza correspondiente.

Café



Catleya trianae es su nombre original, y por su belleza es la flor nacional.

Palma de cera del Quindío



Su sabor tiene fama mundial y se prepara de manera especial.

Orquídea



Es el árbol nacional, y tiene una altura sin igual.

Reflexiona y valora



2 Consulta y escribe el significado de los siguientes elementos del escudo de nuestro país.





Recupera información

1 Colorea las opciones que completan correctamente cada afirmación.

★ La fiesta de la Independencia se conmemora el...

7 de agosto

20 de julio

★ Simón Bolívar es conocido como...

El Libertador

El hombre de las Leyes



Interpreta

2 Completa la siguiente ficha acerca de la vida de Simón Bolívar. Ten en cuenta las palabras claves.

Simón Bolívar

Nació en: _____

Era conocido como: _____

Organizó un _____ con el que consiguió la independencia de cinco naciones: _____,

_____ y _____.

En 1830, _____ en Santa Marta.

PALABRAS CLAVES

murió
Venezuela
Bolivia
Colombia
Perú
ejército
Caracas en 1783
El Libertador
Ecuador

¿Qué pasa cuando no aceptamos las diferencias?



Anita, no me agrada ese niño.



Oye Sofía, invitemos a jugar al niño nuevo.



Tu mamá tiene razón.



Mi mamá me enseñó que discriminar a los demás no está bien.

Competencia interpretativa

1 Escribe: ¿cómo crees que se sintió el niño nuevo al ser discriminado?



2 Marca con una X la respuesta correcta.

★ Cuando Anita dice: *discriminar a los demás no está bien*, quiere decir que

los derechos son privilegios de algunos niños.

está permitido tratar mal a los demás.

todas las personas del mundo tienen los mismos derechos.

está bien excluir a los demás porque son diferentes a nosotros.

5 Amplía la historieta de la página anterior. Representa en las viñetas el momento en que Sofía cambia de idea e invita al niño nuevo a participar en el juego.

